



## מבחן בחשבון – תחילת כיתה ד'

1. כתבו בספרות:

מאה ארבעים ואחת - \_\_\_\_\_

שלושת אלפים עשרים וחמש - \_\_\_\_\_

2. כתבו במילים:

4030 – \_\_\_\_\_

7021 – \_\_\_\_\_

3. מהי ספרת העשרות במספר ששת אלפים מאה וחמש?

א. 7      ב. 2      ג. 0      ד. 4

4. פתרו את התרגילים הבאים:

א.  $204 + 301 + 100 + 295 =$  \_\_\_\_\_

ב.  $43 + 4 + 232 =$  \_\_\_\_\_

ג.  $814 - 202 =$  \_\_\_\_\_

ד.  $25 * 4 =$  \_\_\_\_\_

ה.  $48 : 6 =$  \_\_\_\_\_



5. השלימו את המספר החסר:

א.  $240 + 60 = \underline{\hspace{2cm}} + 160$

ב.  $350 - 50 = \underline{\hspace{2cm}} - 100$

6. פתרו את הבעיות הבאות:

א. עוגיה אחת עולה 7 ₪.

אמא קנתה עוגיות ב-42 ₪.

כמה עוגיות אמא קנתה?

תרגיל: \_\_\_\_\_

תשובה: \_\_\_\_\_

ב. הגננת חילקה 24 צבעים באופן שווה בין שישה ילדים.

כמה צבעים קיבל כל ילד?

תרגיל: \_\_\_\_\_

תשובה: \_\_\_\_\_

ג. בתבנית ביצים יש 12 ביצים.

כמה תבניות קניתי אם יש לי 36 ביצים?

תרגיל: \_\_\_\_\_

תשובה: \_\_\_\_\_



ד. יובל קרא 121 עמודים בספר.

נותרו לו עוד 85 עמודים כדי לסיים את הספר.

כמה עמודים בספר של יובל?

תרגיל: \_\_\_\_\_

תשובה: \_\_\_\_\_

ה. לאורי יש יום הולדת והוא רוצה להביא 2 סוכריות לכל תלמיד. בכיתה

לומדים 15 בנים ו-23 בנות.

כמה סוכריות עליו לקנות?

תרגיל: \_\_\_\_\_

תשובה: \_\_\_\_\_

ו. רונה חילקה פיצה באופן שווה בין ארבעה ילדים.

איזה חלק מהפיצה קיבל כל ילד?

תרגיל: \_\_\_\_\_

תשובה: \_\_\_\_\_

ז. מופע בלט החל בשעה 08:20 ונמשך 30 דקות. באיזו שעה הסתיים

המופע?

תרגיל: \_\_\_\_\_

תשובה: \_\_\_\_\_




7. השלימו את המספרים החסרים ופתרו:

$$7 * 9 = 7 * 3 + 7 * \underline{\hspace{2cm}}$$

$$5 * 10 = 5 * 5 + 5 * \underline{\hspace{2cm}}$$

8. איזה מן המספרים הבאים נמצא בישר המספרים שלפניכם?

א. 2,050      ב. 1,689      ג. 1,159      ד. 1,404



9. נדב כפל מספר ב-10 וקיבל מספר חדש.

הקיפו את המספר שיכול להיות זה שנדב קיבל:

א. 204      ב. 422      ג. 523      ד. 240

10. פתרו:

$$10 + 3 * 3 = \underline{\hspace{2cm}}$$

11. השלימו:

א.  $\underline{\hspace{2cm}} + 220 = 600 + 320$

ב.  $20 * \underline{\hspace{2cm}} = 2,000$

ג.  $210 < \underline{\hspace{2cm}} * 21$

ד.  $20 = 5 : \underline{\hspace{2cm}}$

12. לפניכם מספר סדרות – השלימו אותן:

3 , 6 ,            ,            ,           

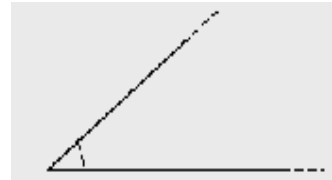
14 , 18 ,            ,            ,           

35 , 30 ,            ,            ,           

15 , 25 ,            ,            ,           

13. כתבו ליד כל זווית את שמה.

היעזרו במחסן המילים (זווית חדה , זווית ישרה , זווית שטוחה).



\_\_\_\_\_



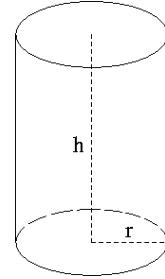
\_\_\_\_\_



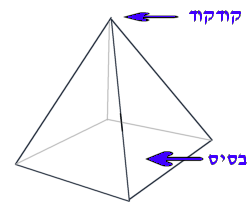
\_\_\_\_\_

14. מתחו קו בין השם לגוף המתאים:

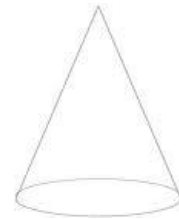
קובייה



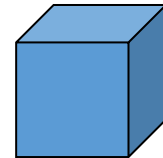
גליל



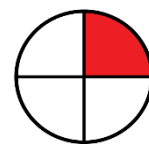
פירמידה



חרוט



15. הקיפו את הצורה שרבע ממנה צבוע:





## מבחן בחשבון – תחילת כיתה ד' - תשובות

1. כתבו בספרות:

מאה ארבעים ואחת - 141

שלושת אלפים עשרים וחמש - 3025

2. כתבו במילים:

4030 – ארבעת אלפים ושלושים.

7021 – שבעת אלפים עשרים ואחת.

3. מהי ספרת העשרות במספר ששת אלפים מאה וחמש?

א. 7      ב. 2      ג. 0      ד. 4

4. פתרו את התרגילים הבאים:

א.  $204 + 301 + 100 + 295 = \underline{900}$

ב.  $43 + 4 + 232 = \underline{279}$

ג.  $814 - 202 = \underline{612}$

ד.  $25 * 4 = \underline{100}$

ה.  $48 : 6 = \underline{8}$



5. השלימו את המספר החסר:

א.  $240 + 60 = \underline{140} + 160$

ב.  $350 - 50 = \underline{400} - 100$

6. פתרו את הבעיות הבאות:

א. עוגיה אחת עולה 7 ₪.

אמא קנתה עוגיות ב-42 ₪.

כמה עוגיות אמא קנתה?

תרגיל:  $\underline{42 : 7 = 6}$

תשובה: אמא קנתה 6 עוגיות

ב. הגננת חילקה 24 צבעים באופן שווה בין שישה ילדים.

כמה צבעים קיבל כל ילד?

תרגיל:  $\underline{24 : 6 = 4}$

תשובה: כל ילד קיבל ארבעה צבעים

ג. בתבנית ביצים יש 12 ביצים.

כמה תבניות קניתי אם יש לי 36 ביצים?

תרגיל:  $\underline{36 : 12 = 3}$

תשובה: קניתי 3 תבניות ביצים





ד. יובל קרא 121 עמודים בספר.

נותרו לו עוד 85 עמודים כדי לסיים את הספר.

כמה עמודים בספר של יובל?

תרגיל:  $121 + 85 = 206$

תשובה: בספר של יובל יש 206 עמודים.

ה. לאורי יש יום הולדת והוא רוצה להביא 2 סוכריות לכל תלמיד. בכיתה

לומדים 15 בנים ו-23 בנות.

כמה סוכריות עליו לקנות?

תרגיל:  $(15 + 23) * 2 = 76$

תשובה: עליו לקנות 76 סוכריות

ו. רונה חילקה פיצה באופן שווה בין ארבעה ילדים.

איזה חלק מהפיצה קיבל כל ילד?

תרגיל:  $1 : 4 = 1/4$

תשובה: כל ילד קיבל רבע פיצה

ז. מופע בלט החל בשעה 20:08 ונמשך 30 דקות. באיזו שעה הסתיים

המופע?

תרגיל:  $20 + 30 = 50$

תשובה: המופע הסתיים בשעה 20:50.



ב.  $20 * \underline{100} = 2,000$

ג.  $21 * \underline{9} < 210$

ד.  $\underline{100} : 5 = 20$

12. לפניכם מספר סדרות – השלימו אותן:

3 , 6 , 9 , 12 , 15

14 , 18 , 22 , 26 , 30

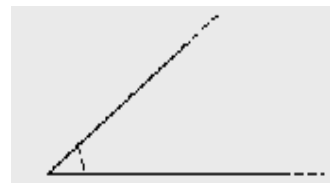
35 , 30 , 25 , 20 , 15

15 , 25 , 35 , 45 , 55

13. כתבו ליד כל זווית את שמה.

היעזרו במחסן המילים (זווית חדה , זווית ישרה , זווית שטוחה).

חדה



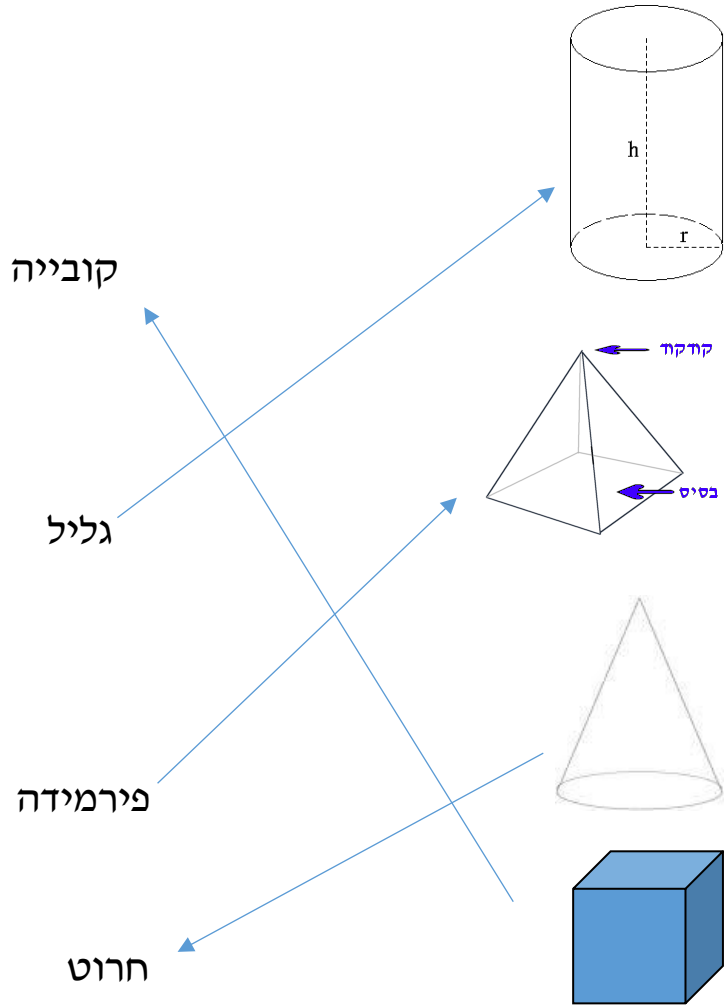
ישרה



שטוחה



14. מתחו קו בין השם לגוף המתאים:



15. הקיפו את הצורה שרבע ממנה צבוע:

